

제 4 교시

직업탐구 영역(인간 발달)

성명

수험 번호

제 [   ] 선택

1. 다음 자기소개서에서 알 수 있는 인간 발달의 원리로 적절한 것만을 <보기>에서 있는 대로 고른 것은?

저는 다문화 언어 지도사입니다. 다문화 가정에서 적절한 시기에 언어 자극을 받지 못해 언어 발달이 지연되어 학교와 사회 적응에 어려움을 겪는 아이들에게 한국어를 가르칩니다. 그들의 의사소통이 원활해지면서 학습 능력, 자존감, 사회성 등이 향상되는 긍정적 효과가 나타날 때 큰 보람을 느낍니다.

<보 기>

- ㄱ. 발달의 각 영역은 상호 관련성이 있다.  
ㄴ. 발달은 일정한 방향에 따라 진행된다.  
ㄷ. 발달은 분화와 통합의 과정을 거치면서 이루어진다.

- ① ㄱ      ② ㄴ      ③ ㄱ, ㄷ      ④ ㄴ, ㄷ      ⑤ ㄱ, ㄴ, ㄷ

2. 다음 기사에서 노인 A 씨의 환경체계 ㉠~㉢에 대한 설명으로 옳은 것만을 <보기>에서 있는 대로 고른 것은? (단, 브론펜브레너의 생태학적 체계 이론에 근거한다.) [3점]

“살려 줘!” 외침 알아들은 로봇, 노인의 목숨 구해

노인 A 씨는 ㉠매일 다니는 주간보호센터에 가려고 준비하던 중 갑자기 어지러움을 느끼고 쓰러지며 살려 달라고 외쳤다. ㉡A 씨의 부인은 외출 중이어서 A 씨의 외침을 듣지 못했지만, 인공 지능 돌봄 로봇은 그 소리를 듣고 ㉢119 구조대에 신고하여 A 씨의 생명을 구할 수 있었다.

현재 인공 지능 돌봄 로봇은 △△시 노인 돌봄 정책의 일환으로 신청자에게 제공되고 있는데, 노인 인구의 증가로 사회적 돌봄 수요가 증가하고 있어 인공 지능 돌봄 로봇 제공을 전체 노인 가구로 확대할 필요가 있다. 이에 따라 최근 제정된 ㉣돌봄통합지원법\*에 대한 기대가 높아지고 있다.

\*돌봄통합지원법: 의료·요양 등 지역 돌봄의 통합지원에 관한 법률

- ○○신문, 2024년 5월 30일 자 -

<보 기>

- ㄱ. ㉠가 속한 체계의 예로는 대중 매체, 지역 사회가 있다.  
ㄴ. ㉡는 미시체계에 해당한다.  
ㄷ. ㉢와 ㉣는 동일한 체계에 속한다.

- ① ㄱ      ② ㄴ      ③ ㄱ, ㄷ      ④ ㄴ, ㄷ      ⑤ ㄱ, ㄴ, ㄷ

3. 다음 일기를 통해 알 수 있는 태내 발달 단계에 대한 설명으로 가장 적절한 것은?

2024년 ○월 ○일

오늘 남편과 함께 병원에 다녀왔다. 의사 선생님께서 이제 임신 6주 차라고 하시며 아기의 심장 뛰는 소리를 들려 주셨다. 힘차게 뛰는 심장 소리를 들으니 머지않아 엄마가 된다는 것이 실감난다. 안정을 취하며 음식도 잘 챙겨 먹어야겠다.

- ① 발아기에 해당한다.  
② 모체가 태동을 느끼기 시작한다.  
③ 수정란이 자궁 내막에 착상한다.  
④ 청각이 발달하여 외부 소리를 들을 수 있다.  
⑤ 간, 폐와 같은 주요 신체 기관이 만들어진다.

4. 다음 독서 감상문을 작성한 아동 A가 속한 시기에 대한 설명으로 가장 적절한 것은? [3점]

『빨강 머리 앤』을 읽고

작성자: 아동 A

빨강 머리 앤이 모든 사람들이 자기만 쳐다보는 것 같아서 머리카락 색깔을 바꾸겠다고 염색약을 사는 장면이 인상적이었다. 나도 모든 사람들이 내 곱슬머리를 쳐다보는 것 같아서 스트레이트파마를 하고 싶다. 그리고 요즘 내 친구들이 다들 염색을 하던데, 나도 친구들처럼 염색을 해야 할 것 같다. 빨강 머리 앤도 나와 비슷한 고민을 했던 것 같다.

- ① 전보식 언어가 나타나기 시작한다.  
② 피아제에 따르면 전조작기에 해당한다.  
③ 이상주의적 사고가 나타나기 시작한다.  
④ 상징적 표상 능력이 발달하기 시작한다.  
⑤ 프로이트에 따르면 동성 부모와의 동일시가 나타난다.

5. 다음 글에서 알 수 있는 발달 시기의 생리적 특성으로 옳은 것만을 <보기>에서 있는 대로 고른 것은?

이 시기의 아동은 피부가 얇고 쭈글쭈글하며 몸 전체가 태지와 솜털로 덮여 있다. 외부 자극에 무의식적인 반사 운동을 하며, 간 기능이 미숙하여 일시적으로 황달 증세가 나타날 수 있다.

<보 기>

- ㄱ. 체온이 성인보다 높다.  
ㄴ. 맥박이 성인보다 느리다.  
ㄷ. 분당 호흡 횟수가 성인보다 많다.  
ㄹ. 렘(REM) 수면 시간이 성인보다 적다.

- ① ㄱ, ㄷ      ② ㄱ, ㄹ      ③ ㄴ, ㄹ  
④ ㄱ, ㄴ, ㄷ      ⑤ ㄴ, ㄷ, ㄹ

## 2 (인간 발달)

## 직업탐구 영역

6. 다음 대화에서 A, B 씨가 활용하는 지능에 대한 설명으로 적절한 것만을 <보기>에서 있는 대로 고른 것은? (단, 스테른버그의 지능 삼원론에 근거한다.) [3점]

A 씨: 우리 여행 계획을 세워야 해. 각자 잘할 수 있는 역할을 맡자. 나는 ○○지역의 날씨, 맛집, 숙소, 교통편 등의 정보를 꼼꼼하게 수집하고, 체계적으로 비교·분석한 후 여행 일정을 일자별로 정리할게.  
B 씨: 그래, 너는 일정을 정리해. 나는 나의 여행 경험을 살려서 새롭고 독특한 아이디어를 추가할게. 잊지 못할 재미있는 여행을 만들어 보자.

<보 기>

- ㄱ. A 씨가 활용하는 지능은 전통적 지능 검사에서 측정하는 지능과 관련이 깊다.  
ㄴ. B 씨는 구성적 지능을 활용하고 있다.  
ㄷ. A 씨가 활용하는 지능은 B 씨가 활용하는 지능보다 학업 수행에 더 필요한 지능이다.

- ① ㄱ      ② ㄴ      ③ ㄱ, ㄷ      ④ ㄴ, ㄷ      ⑤ ㄱ, ㄴ, ㄷ

7. 다음 관찰 기록지의 [관찰 결과]에서 아동 A~C의 반응을 에인스워스의 애착 유형에 근거하여 분석한 내용으로 적절한 것만을 <보기>에서 고른 것은? [3점]

관찰 기록지				
[관찰 대상] 아동 A~C				
[관찰 목적] 낯선 상황 실험 중 재회 상황에서 아동이 보이는 반응을 통해 애착 유형 파악				
[관찰 결과]				
상황	아동의 반응	아동 A	아동 B	아동 C
엄마와 재회했을 때	울며 엄마에게 다가간다.	✓	✓	
	아무런 반응이 없다.			✓
재회 후 엄마가 아동을 달래 주거나 안아 줄 때	금방 울음을 그치고, 엄마를 반긴다.	✓		
	쉽게 달래지지 않고, 계속해서 울며 화를 낸다.		✓	
	계속해서 외면하고 무시하며, 엄마와 거리를 둔다.			✓

※ 해당하는 경우 체크(✓) 표시

<보 기>

- ㄱ. 아동 A가 속한 유형에서는 엄마가 안전 기지로서의 역할을 한다.  
ㄴ. 아동 B가 속한 유형은 엄마가 자녀의 신호에 민감하게 반응할 때 나타난다.  
ㄷ. 아동 C가 속한 유형의 아동은 엄마의 존재 여부에 무관심하다.  
ㄹ. 아동 B가 속한 유형은 회피 애착, 아동 C가 속한 유형은 저항 애착에 해당한다.

- ① ㄱ, ㄴ      ② ㄱ, ㄷ      ③ ㄴ, ㄷ      ④ ㄴ, ㄹ      ⑤ ㄷ, ㄹ

- [8~9] 다음은 부부 간의 대화이다. 물음에 답하시오.

아내: 지난번에 은서 친구 민지가 은서의 장난감을 뺏으려고 은서를 밀치 길래 그러지 말라고 했던 거 기억나요?  
그런데 어제는 은서가 민지를 갑자기 꼬집었어요.  
남편: 은서가 왜 그랬는지 물어봤어요?  
아내: 그냥 민지를 아프게 하고 싶었대요. 은서가 민지를 꼬집었을 때 ㉠ 꾸짖었더니 오늘은 꼬집지 않았지만 또 그럴까 봐 걱정이에요. 앞으로 은서가 친구랑 사이 좋게 지내게 하기 위한 다른 방법은 없을까요?  
남편: 선배의 경우엔, 자녀가 친구랑 사이 좋게 지낼 때마다 ㉡ 좋아하는 장난감을 사 주거나, ㉢ 싫어하는 청소의 횟수를 줄여 주니 사이 좋게 지내게 됐대요.

8. 위 대화에서 은서와 민지의 행동을 분석한 내용으로 적절한 것만을 <보기>에서 있는 대로 고른 것은?

<보 기>

- ㄱ. 민지가 보이는 공격성은 연령이 높아짐에 따라 증가한다.  
ㄴ. 은서는 상대방을 괴롭히려는 의도가 있는 공격성을 보인다.  
ㄷ. 민지는 도구적 공격성, 은서는 적대적 공격성을 보인다.

- ① ㄱ      ② ㄴ      ③ ㄱ, ㄷ      ④ ㄴ, ㄷ      ⑤ ㄱ, ㄴ, ㄷ

9. 위 대화에 나타난 행동 수정 방법 ㉠~㉣에 대한 설명으로 옳은 것은? (단, 스키너의 행동주의 이론에 근거한다.) [3점]


- ① ㉠은 강화물에 해당한다.  
② ㉡는 정적 강화에 해당한다.  
③ ㉢는 특정 행동의 빈도를 감소시키는 데 초점을 둔다.  
④ ㉣는 처벌에 해당한다.  
⑤ ㉣를 적용한 사례에는 칭찬하기가 있다.

10. 다음 수업 장면에서 알 수 있는 발달 시기에 대한 설명으로 옳은 것만을 <보기>에서 고른 것은? (단, 에릭슨의 심리사회적 이론에 근거한다.)

〈○○기 발달〉

- 신체적 발달
  - 근육 성장이 완성되어 신체적 활동 능력이 절정에 이름.
  - 내부 기관 완성으로 생물학적 기능이 최고조에 달함.
- 심리사회적 발달
  - 직업을 통해 꿈과 목표를 실현함.

이 시기는 독립된 사회인으로서 자신의 삶을 주체적으로 계획하는 시기입니다.



<보 기>

- ㄱ. 이 시기의 발달 위기는 고립감이다.  
ㄴ. 동료 또는 이성과의 관계를 통해 친밀감을 획득한다.  
ㄷ. 자유로운 신체 활동과 사고를 통해 자율성을 획득한다.  
ㄹ. 기본적인 신뢰감을 획득하지 못하면 불신감을 갖게 된다.

- ① ㄱ, ㄴ      ② ㄱ, ㄷ      ③ ㄴ, ㄷ      ④ ㄴ, ㄹ      ⑤ ㄷ, ㄹ

11. 다음 연극 평론에서 ㉠, ㉡에 해당하는 성격 구성 요소에 대한 설명으로 적절한 것만을 <보기>에서 고른 것은? (단, 프로이트의 심리성적 이론에 근거한다.) [3점]

연극 ‘지킬 앤 하이드’는 연일 전석 매진이라는 진기록을 세우고 있다. 특히 ㉠ 부모나 사회의 영향으로 형성된 도덕과 양심을 따르려는 지킬 박사와 ㉡ 무의식에 잠재되어 있는 공격적 충동을 추구하는 하이드 사이에서 고뇌하는 유명 배우 ○○○ 씨의 연기가 관객들에게 호평을 받고 있다.


<보 기>

- ㄱ. ㉠은 초자아에 해당한다.  
 ㄴ. ㉠은 현실 원리를 통해 본능을 만족시킨다.  
 ㄷ. ㉡은 성욕, 식욕과 같은 쾌락에 따라 움직인다.  
 ㄹ. ㉡은 오이디푸스 콤플렉스를 경험하는 시기에 발달하기 시작한다.

- ① ㄱ, ㄴ    ② ㄱ, ㄷ    ③ ㄴ, ㄷ    ④ ㄴ, ㄹ    ⑤ ㄷ, ㄹ

12. 다음 장면에서 알 수 있는 아동 A의 사고가 나타나기 시작하는 시기에 대한 설명으로 가장 적절한 것은? (단, 피아제의 인지 발달 이론에 근거한다.) [3점]

아기는 원뿔 모양의 모빌 아래 누워 있고, 엄마와 아동 A가 아기 옆에 앉아서 이야기를 나누고 있다.  
 엄 마: (모빌을 가리키며) 이 모빌이 어떤 모양으로 보여?  
 아동 A: 세모처럼 보여요.  
 엄 마: 아기의 방향에서는 어떤 모양으로 보일까?  
 아동 A: 아기의 방향에서는 동그라미처럼 보이겠지요.



- ① 인공론적 사고가 두드러진다.  
 ② 지연 모방이 나타나기 시작한다.  
 ③ 다중 서열화가 나타나기 시작한다.  
 ④ 깊이 지각 능력이 나타나기 시작한다.  
 ⑤ 감각 기관과 운동 기능을 통해 세상을 인식하는 시기이다.

13. 다음 글에서 주인공의 심리적 반응을 퀴블러로스의 죽음을 받아들이는 단계에 근거하여 분석한 것으로 가장 적절한 것은?

내가 의사가 아닌 시한부 환자의 삶을 살게 되었음을 인정하니 그동안 내 마음속에 휘몰아치던 파도가 잦아들었다. 내가 죽은 뒤에도 남은 가족들이 편안히 살기 위해서는 새로운 재정적 준비가 필요하다. 아버지는 나에게 병에 지지 말고 이겨 내라고 말씀하셨다. 아버지의 안타까운 마음도 이해가 되지만, 달리 방법이 없지 않은가. 이제 나는 홀가분하다.

- 폴 칼라티니, 『숨결이 바람 될 때』 -

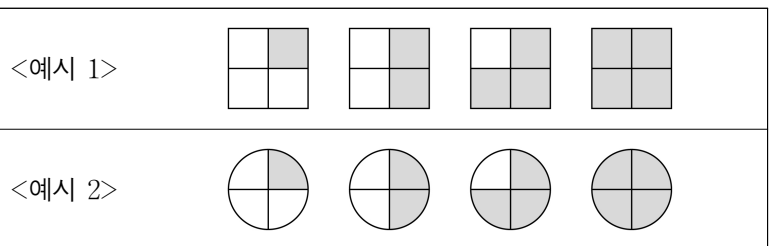
- ① 죽음을 현실로 받아들이고 준비한다.  
 ② 자신의 죽음이 임박했다는 사실을 부정한다.  
 ③ 죽음이 불가피하다는 것을 깨닫고 절망한다.  
 ④ 가족이나 치료진에게 분노의 감정을 표출한다.  
 ⑤ 죽음이 다가오는 시기를 유예하기 위해 타협을 시도한다.

14. 다음 [실험 결과]를 통해 알 수 있는 아동 A가 속한 시기의 발달 특성으로 가장 적절한 것은? (단, 피아제의 인지 발달 이론에 근거한다.) [3점]

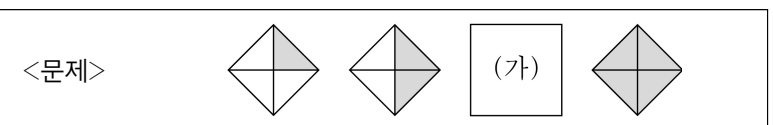
[실험 대상] 아동 A

[실험 과정]

단계 1: 아동 A에게 <예시 1, 2>를 보여 준다.



단계 2: 위 <예시 1, 2>를 근거로 하여 <문제>의 (가)에 들어갈 그림을 그리게 하고, 그 이유를 설명하게 한다.



[실험 결과]

아동 A의 답변	
답변의 이유	<예시 1, 2>를 이용해 시계 방향으로 한 칸씩 검은색으로 채워진다는 가설을 세워 보았어요. <문제>에 가설을 적용해보면, 마름모 그림이 시계 방향으로 한 칸씩 검은색으로 채워져야 한다고 예측했어요.

- ① 전환적 추론을 한다.  
 ② 직관적 사고를 한다.  
 ③ 물활론적 사고를 한다.  
 ④ 체계적·조합적 사고를 한다.  
 ⑤ 대상영속성 개념을 획득하기 시작한다.

15. 다음 사례에서 A, B씨가 속한 중년기 적응 유형에 대한 설명으로 옳은 것만을 <보기>에서 고른 것은? (단, 파렐과 로젠버그의 중년기 적응 유형에 근거한다.)

A씨는 다니던 회사의 사정으로 어쩔 수 없이 직장을 그만두게 되자, 직장 동료와의 관계가 단절되었다. 평소 가족에게 큰 관심이 없어 자녀와도 소원하다. 그는 지금의 불만족스러운 상황에 대해 불평하고 있다.

B씨는 한옥을 손수 짓는 것이 꿈이었다. 퇴직 이후 한옥 짓는 방법을 배우는 한옥 학교에 다니며 그곳에서 만난 사람들과 함께 전국의 한옥을 답사하면서 즐거운 시간을 보내고 있다.

<보 기>

- ㄱ. A씨가 속한 유형은 자기중심성이 강하다.  
 ㄴ. A씨가 속한 유형은 긴장감과 갈등을 은폐한다.  
 ㄷ. B씨가 속한 유형은 자신의 과거와 현재에 대해 만족한다.  
 ㄹ. A씨는 탁월한 생성층 유형, B씨는 억압된 우울 유형에 속한다.

- ① ㄱ, ㄴ    ② ㄱ, ㄷ    ③ ㄴ, ㄷ    ④ ㄴ, ㄹ    ⑤ ㄷ, ㄹ



16. 다음 수행 평가 보고서에서 [조사 결과]의 (가)~(다)를 매슬로의 욕구 위계 이론에 근거하여 분석한 내용으로 적절한 것만을 <보기>에서 고른 것은? [3점]

## 수행 평가 보고서

1학년 2반 3모둠

[주 제] 결혼을 결심한 이유 조사하기

[조사 대상] 기혼자 ○○명

[조사 결과]

- (가) 혼자 있을 때의 불안감을 낮추고, 심리적 안정감을 느끼려고 결혼을 결심함.  
 (나) 배우자에게 이해받고, 존재 가치를 인정받고 싶어서 결혼을 결심함.  
 (다) 서로의 애정을 확인하고, 나만의 가정을 꾸리고 싶어서 결혼을 결심함.

## &lt;보 기&gt;

- ㄱ. (가)에 나타난 욕구는 생물학적 생존을 위해 필수적인 욕구이다.  
 ㄴ. (나)에는 자아존중감의 욕구가 나타나 있다.  
 ㄷ. (다)에 나타난 욕구는 재난, 사고와 같은 위협으로부터 안전을 추구하려는 욕구이다.  
 ㄹ. (다)에 나타난 욕구는 (가)에 나타난 욕구보다 위계적으로 상위에 있다.

- ① ㄱ, ㄴ    ② ㄱ, ㄷ    ③ ㄴ, ㄷ    ④ ㄴ, ㄹ    ⑤ ㄷ, ㄹ

17. 다음 장면에서 알 수 있는 아동 A~C의 놀이를 파튼의 사회적 놀이 유형에 근거하여 분석한 것으로 적절한 것만을 <보기>에서 있는 대로 고른 것은?

(아동 A, B가 함께 놀이를 하며 분주하게 뛰어다닌다.)

아동 A: 우리 소방관 놀이하자!

아동 B: 좋아. 미끄럼틀에 불이 났대.

아동 A: 내가 호스로 물 뿌릴게. 너는 소방차 갖고 와.

아동 B: 알았어. 뽀용뽀용~ 우리 함께 빨리 불을 끄자.

아동 C: (아동 A, B가 노는 것을 한참 동안 지켜보며 가까이에서 있다.)

## &lt;보 기&gt;

- ㄱ. 아동 C는 방관자적 놀이를 하고 있다.  
 ㄴ. 아동 A와 아동 B는 협동 놀이를 하고 있다.  
 ㄷ. 아동 A와 아동 B의 놀이 유형은 아동 C의 놀이 유형보다 사회적 상호작용이 더 활발히 일어난다.

- ① ㄱ    ② ㄴ    ③ ㄱ, ㄷ    ④ ㄴ, ㄷ    ⑤ ㄱ, ㄴ, ㄷ

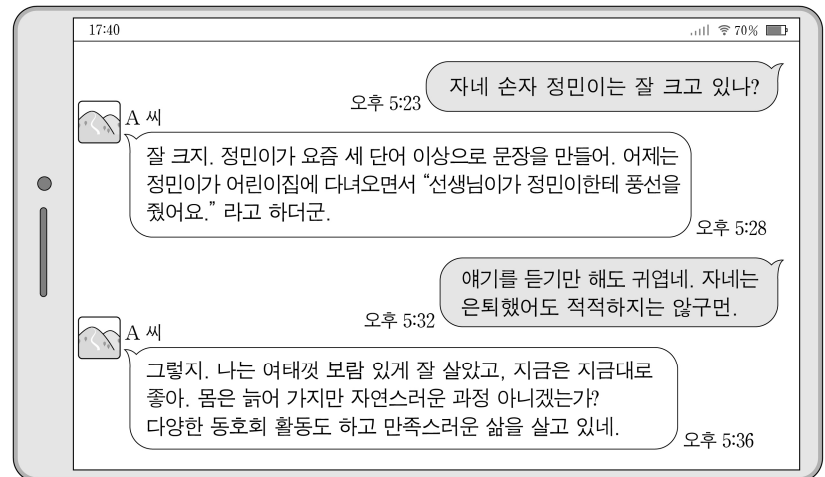
18. 다음 부모 교육 자료를 통해 알 수 있는 자녀가 속한 발달 시기에 대한 설명으로 옳은 것은?

## 우리 자녀 이해하기

학부모님, 자녀의 학교 생활이 많이 걱정되지요? 이 시기에는 학습 과제 수행을 통해 학교에서 적응하는 데 필요한 기술을 배우는 것이 중요합니다. 에릭슨에 따르면 이 시기의 발달 과업을 성취하지 못할 경우 자신이 남들보다 못하다는 열등감을 느낄 수도 있습니다. 그러니 자녀들이 일상생활에서 작은 성취를 경험할 수 있도록 지도하고 격려해 주세요.

- ① 변증법적 사고가 가능하다.  
 ② 프로이트에 따르면 잠복기에 해당한다.  
 ③ 확인 부가 의문문 사용이 나타나기 시작한다.  
 ④ 콜버그에 따르면 성 정체성이 형성되기 시작한다.  
 ⑤ 혼과 카텔에 따르면 유동성 지능이 절정에 달한다.

- [19~20] 다음은 친구 간의 SNS 대화이다. 물음에 답하시오.



19. 위 대화에서 정민이가 속한 시기의 발달 특성에 대한 설명으로 옳은 것만을 <보기>에서 있는 대로 고른 것은? (단, 피아제의 인지 발달 이론에 근거한다.) [3점]

## &lt;보 기&gt;

- ㄱ. 자기중심적 언어를 사용한다.  
 ㄴ. 추상적 개념을 이해할 수 있다.  
 ㄷ. 부피에 대한 보존 개념을 획득한다.

- ① ㄱ    ② ㄴ    ③ ㄱ, ㄷ    ④ ㄴ, ㄷ    ⑤ ㄱ, ㄴ, ㄷ

20. 위 대화에서 A 씨가 속한 성격 적응 유형에 대한 설명으로 가장 적절한 것은? (단, 라이카드 등의 노년기 적응 유형에 근거한다.)

- ① 노화를 인정하지 않고, 늙었다고 무시당할까 봐 다양한 활동을 한다.  
 ② 바쁜 사회생활에서 벗어나 조용히 지내는 것을 다행으로 생각한다.  
 ③ 열등감이 많으며, 인생의 실패 원인을 자신의 탓이라 생각한다.  
 ④ 실패의 원인을 자신이 아닌 외부로 돌리며 원망과 분노에 사로잡혀 있다.  
 ⑤ 자신의 일생을 가치 있게 생각하고, 과거에 대한 후회나 미래에 대한 두려움이 없다.

## \* 확인 사항

- 답안지의 해당란에 필요한 내용을 정확히 기입(표기)했는지 확인하시오.